

**ESTAS ATIVIDADES CONTEMPLAM AS SEGUINTE HABILIDADES**

(EF06GE01) - Comparar modificações nos lugares de vivência [...].

(EF07GE01) - Ideias e concepções sobre a formação territorial do Brasil [...].

(EF08GE03) - Analisar aspectos representativos da dinâmica demográfica [...].

1º E 2º CICLO


VAMOS CONVERSAR E REFLETIR SOBRE OS TIPOS DE FAMÍLIAS.

ASSISTA O *LINK* ABAIXO E DEPOIS REALIZE AS ATIVIDADES PROPOSTAS:



<https://youtu.be/EpDKjnRvWqM>

COM O VÍDEO VERIFICAMOS QUE AS FAMÍLIAS SÃO ESTRUTURADAS DE FORMAS DIFERENTES. NO QUADRO ABAIXO ESCREVA OU DESENHE QUEM MORA COM VOCÊ:



MESMO HAVENDO FAMÍLIAS EM ESTRUTURAS DIFERENCIADAS, SABEMOS QUE HÁ PESSOAS QUE PARTICIPAM PARA A EXISTÊNCIA DA NOSSA FAMÍLIA.

VAMOS PENSAR SOBRE ISSO!

ÁRVORE GENEALÓGICA

A ÁRVORE GENEALÓGICA É UMA REPRESENTAÇÃO DAS PESSOAS QUE TIVERAM PARTICIPAÇÃO NA EXISTÊNCIA DE UMA PESSOA OU FAMÍLIA, OU SEJA, É O HISTÓRICO QUE LEVANTA DADOS SOBRE OS ANCESTRAIS DOS MESMOS DE FORMA QUE FIQUEM CONHECIDAS AS CONEXÕES ESTABELECIDAS ENTRE ESSES.

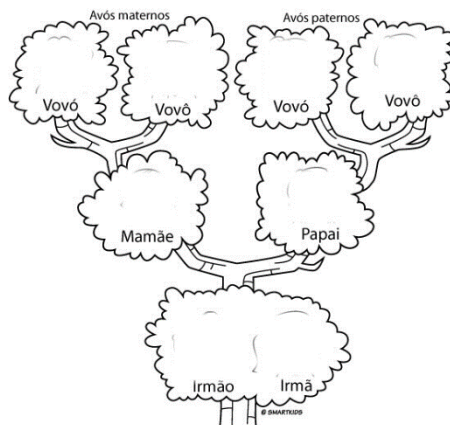
DE ACORDO COM A EXPLICAÇÃO, FAÇA SUA ÁRVORE GENEALÓGICA, NO CADERNO. OU CASO VOCÊ QUEIRA E TENHA ACESSO, FAÇA NO COMPUTADOR UTILIZANDO O PROGRAMA DO POWERPOINT.

ESSE LINK MOSTRA COMO DESENHAR UMA ÁRVORE.

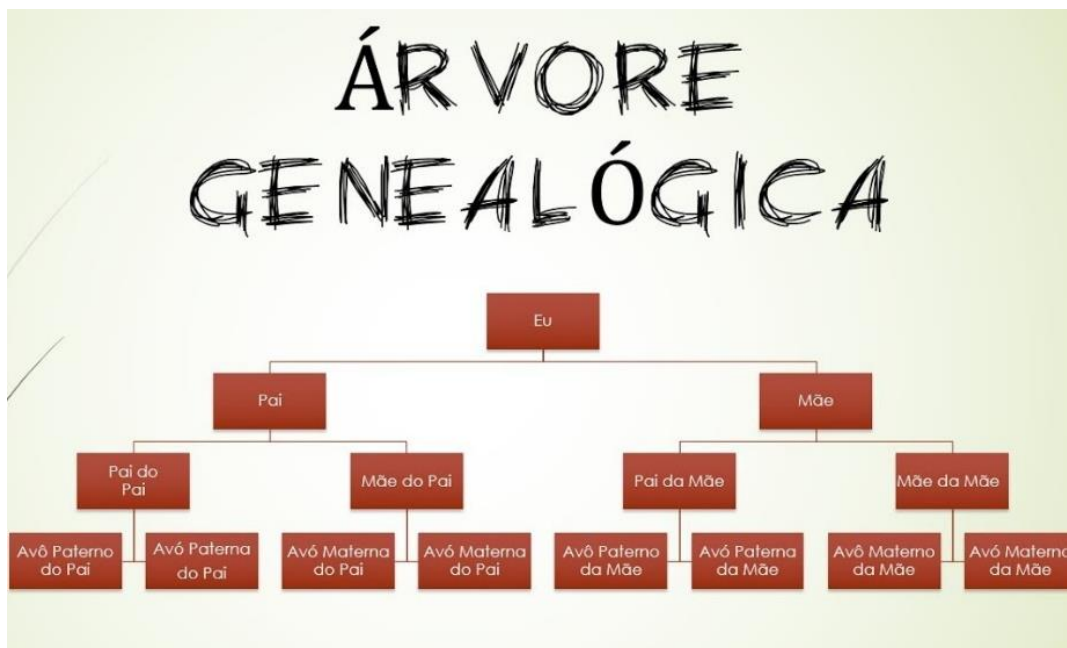


<https://youtu.be/jSQrOmazZpQ>

EXEMPLOS DE ÁRVORES GENEALÓGICAS:



ESSE LINK ENSINA COMO UTILIZAR O PROGRAMA DO POWERPOINT. QUE TAL EXPERIMENTAR PRODUZIR UMA ÁRVORE GENEALÓGICA DIGITAL?



<https://youtu.be/19j2zA45LKQ>

TURMA: 5ªSÉRIE

SEU LUGAR NO MUNDO



<http://www.youtube.com/watch?v=AewilY5jHy0>

ORA BOLAS

Palavra cantada

Oi, oi, oi... olha aquela bola
A bola pula bem no pé, no pé do menino
Quem é esse menino? Esse menino é meu vizinho!
Onde ele mora? Mora lá naquela casa!
Onde está a casa? A casa tá na rua!
Onde está a rua? Tá dentro da cidade!
Onde está a cidade? Do lado da floresta!
Onde é a floresta? A floresta é no Brasil!
Onde está o Brasil? Tá na América do Sul
continente americano cercado de **oceano** das
terras mais distantes de todo o planeta
E como é o planeta?
O planeta é uma bola que rebola lá no céu

A letra da música pode ser acessada no site
<http://letras.terra.com.br/palavra-cantada/286862/>

Compreendendo o texto:

1. Sobre o que fala o texto?

2. Quem é esse menino?

3. Onde ele menino mora?

4. Onde fica a casa em que o menino mora?

5. E a rua em que o menino mora fica onde?

6. Onde fica a cidade em que o menino mora?

7. E a floresta?

8. E onde fica o Brasil?

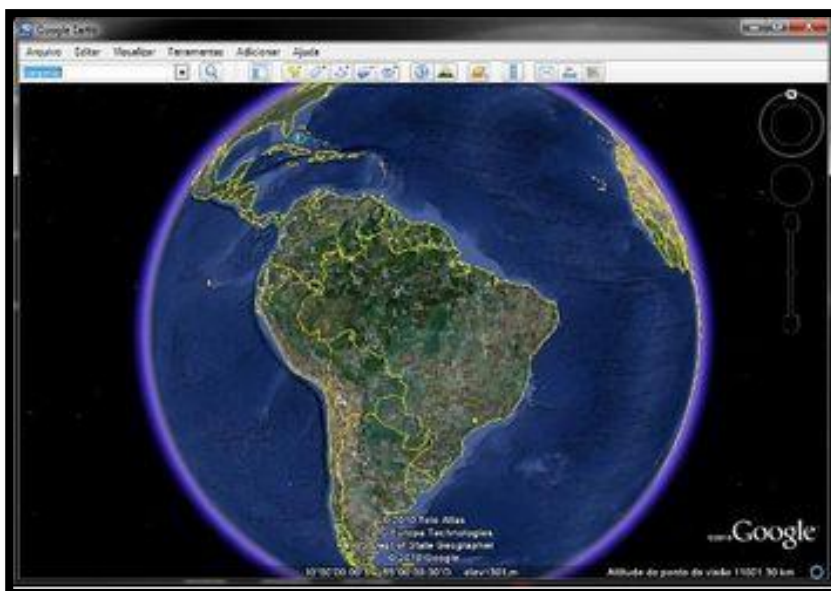
• Releia o texto, nele você encontrará duas palavras em destaque. Quais são elas? Acesse a internet e escreva os seus significados. Caso tenha alguma dúvida, anote em seu caderno, para que possamos retomá-las.

• O mapa ao lado está disponível no link <https://br.pinterest.com/pin/744219907153243169/>, localize o nosso país, identifique pelo menos 3 países vizinhos e descubra qual o oceano que banha o Brasil.



TURMA: 6ªSÉRIE

SEU LUGAR NO MUNDO



Acesse o Google Earth no seguinte link: <https://www.google.com.br/intl/pt-BR/earth/>

Atividade:

- Você está sendo convidado a passear pelo planeta utilizando o Google Earth.
- Procure por seu bairro e escreva no caderno de geografia como foi a experiência.
- Agora escolha um outro local que tenha interesse em conhecer e responda em seu caderno:

1 – Nome do local pesquisado:

2 – Pesquise na internet dados geográficos do local pesquisado:

TURMA: 7ªSÉRIE**SUJEITO E SEU LUGAR NO MUNDO**

1. O desafio da aula da atividade de hoje é sobre Oceanos e Continentes! Procure no dicionário digital o significado dessas palavras e registre em seu caderno.

2. O planeta Terra possui seis continentes, que apresentam 149.440.850 quilômetros quadrados, ocupando aproximadamente 29,3% da superfície terrestre. Marque a alternativa que indica o maior continente da Terra.

- a) () Ásia
b) () África
c) () América
d) () Europa
e) () Oceania



- 3 – O mapa-múndi a seguir apresenta todos os continentes destacados em cores diferentes. Cite o continente referente a cada cor no mapa-múndi em questão.



- a) Vermelho: _____
b) Amarelo _____
c) Preto _____
d) Verde _____
e) Azul _____
f) Cinza _____

Visite os continentes e oceanos e divirta-se dando a volta ao mundo:

Acesse o Google Earth no seguinte link: <https://www.google.com.br/intl/pt-BR/earth/>



- Registre no caderno de geografia como foi sua experiência em visitar o vídeo.



<http://www.escolagames.com.br/jogos/mapaMundi/>

TURMA: 8ªSÉRIE

SUJEITO E SEU LUGAR NO MUNDO

MAPA MUNDI



https://www.youtube.com/watch?v=Fvn_8aJz96g

Atividade:

Após assistir o vídeo acima, responda em seu caderno:

1. Uma vantagem e uma desvantagem de cada forma de representação da Terra:

a) Globo Terrestre:

b) Planisfério:

2. Quais são as linhas imaginárias que circundam a Terra de Leste a Oeste e de Norte ao Sul?

3. Pesquise e responda:

a) O que é um mapa?

b) O que é Meridiano de Greenwich?



<http://www.escolagames.com.br/jogos/mapaMundi/>